

En sortant de l'école...


Prenons de la hauteur ! Rendez-vous au bord du plateau.

①  Le paysage de la commune

Colorie les différents éléments qui constituent le paysage.

②  Cite les principaux éléments qui ont permis aux hommes de s'installer ici.


.....
.....

③  Qu'est-ce qui était exploité, au siècle dernier, sur le coteau où nous nous trouvons ?

(un indice : dans le village se trouve le lieu-dit « La VERRERIE »)

.....

Descend vers le fond de la vallée et arrête-toi dans la forêt.

④  Trouve 3 feuilles d'arbres différentes, dessine leur silhouette et nomme-les à l'aide de la *clé des feuilles*.


.....

⑤  Jeu des odeurs

Continue ton chemin et arrête-toi, devant le lieu représenté sur la photo n°3.

⑥  Planté en ligne devant le cimetière, je suis :

(utilise la plaquette sur les bourgeons pour trouver la réponse)

l'Erable

le Tilleul

le Platane

⑦ C'est moi l'arbre « roi du village ». dans quels autres endroits peut-on m'observer ?

.....


Traverse la route et emprunte la Sente du creux chemin.

⑧  Quel est le nom de la rivière qui traverse le village ?


(un indice : c'est l'arbre poussant au bord de l'eau qui lui a donné son nom. Ces bourgeons sont violets en hiver, ses fruits ressemblent à de petites pommes de Pin, ses feuilles sont arrondies et il retient les berges de la rivière)

.....

Arrête-toi devant le lieu représenté sur la photo n°7.

⑨  De quoi s'agit-t-il ?

Dirige-toi vers la rue de la Ronce et tourne à gauche jusqu'à la Photo n°9.

⑩  Devine en les touchant quelles sont pierres qui ont été utilisées pour construire les murs de ces maisons anciennes ?

.....

⑪  Complète le dessin de cette façade.

- 12 ☞ Retrouve cette ancienne R - - - à e - - .
- 13 ☞ Tu peux jouer au jeu des 6 erreurs (voir feuille à part).

Emprunte la rue du Sal fessier.

- 14 ☞ Quelle peut être l'origine de ce nom ?

.....

.....

- 15 ☞ Retrouve la fontaine du Chardonnet. Servait-elle surtout à :

- laver le linge
- fournir de l'eau potable
- arroser les potagers

- 16 ☞ Trouve le lieu représenté sur la photo n°12.
Pourquoi faut-il préserver les milieux humides ?

.....

.....

Rendez-vous devant l'église

- 17 ☞ Le clocher du village - Jeu d'observation et de question - réponses

Emprunte le chemin de la Butte à Ratel

- 18 ☞ Retrouve l'anneau accroché au mur. Quelle était son utilité ?

.....

.....

Livret découverte de La Celle-les-Bordes



La Celle-les Bordes tient son nom de *cella* –petit monastère et de la famille *des Bordes* qui vécut là dès le Moyen-Age. Dotée d'un riche patrimoine historique (châteaux, église, architecture traditionnelle), la commune possède également un environnement naturel remarquable. Vastes espaces forestiers, cultures et prairies en fonds de vallées offrent en effet des paysages contrastés. La Celle-les-Bordes compte aujourd'hui environ 850 habitants.



